




## ВОПРОС БЕЗ ИЗОБРАЖЕНИЯ

**Что называется разрешённой максимальной массой транспортного средства?**

- 1 Максимально допустимая для перевозки масса груза, установленная предприятием-изготовителем
- 2 Масса снаряженного транспортного средства без учета массы водителя, пассажиров и груза, установленная предприятием-изготовителем
- 3 Масса снаряженного транспортного средства с грузом, водителем и пассажирами, установленная предприятием-изготовителем в качестве максимально допустимой



**Вам разрешено продолжить движение?**

1 Только прямо

2 Прямо или в обратном направлении

3 Во всех направлениях



**А**



**Б**



**В**

**Какие из указанных знаков разрешают проезд на автомобиле к месту проживания или работы?**

1 Только В

2 А и В

3 Все

4 Только А



**Что обозначают эти дорожные знаки?**

- 1 Парковочное место, где возможна пересадка на маршрутное транспортное средство (автобус или троллейбус)
- 2 Парковочное место для автобусов и троллейбусов
- 3 Парковочное место только для автобусов



**Разметка в виде треугольника на полосе движения:**

- 1 Указывает место, где Вам необходимо остановиться
- 2 Обозначает опасный участок дороги
- 3 Предупреждает Вас о приближении к месту, где нужно уступить дорогу




## ВОПРОС БЕЗ ИЗОБРАЖЕНИЯ

**Разрешается ли продолжить движение, если регулировщик поднял руку вверх после того, как Вы въехали на перекрёсток?**

1 Запрещается

2 Разрешается

3 Разрешается, если Вы поворачиваете направо



**Вы намерены продолжить движение по главной дороге. Обязаны ли Вы включить указатели левого поворота?**

1 Не обязаны

2 Обязаны, если с других направлений приближаются транспортные средства

3 Обязаны



**Кто должен уступить дорогу при взаимном перестроении?**

- 1 Водитель грузового автомобиля
- 2 Водитель легкового автомобиля
- 3 Водителям следует действовать по взаимной договоренности





**В каких направлениях Вам можно продолжить движение?**

1 Только прямо

2 Прямо, налево и в обратном направлении

3 Прямо и налево



**С какой максимальной скоростью Вы имеете право продолжить движение на легковом автомобиле?**

1 110 км/ч

2 90 км/ч

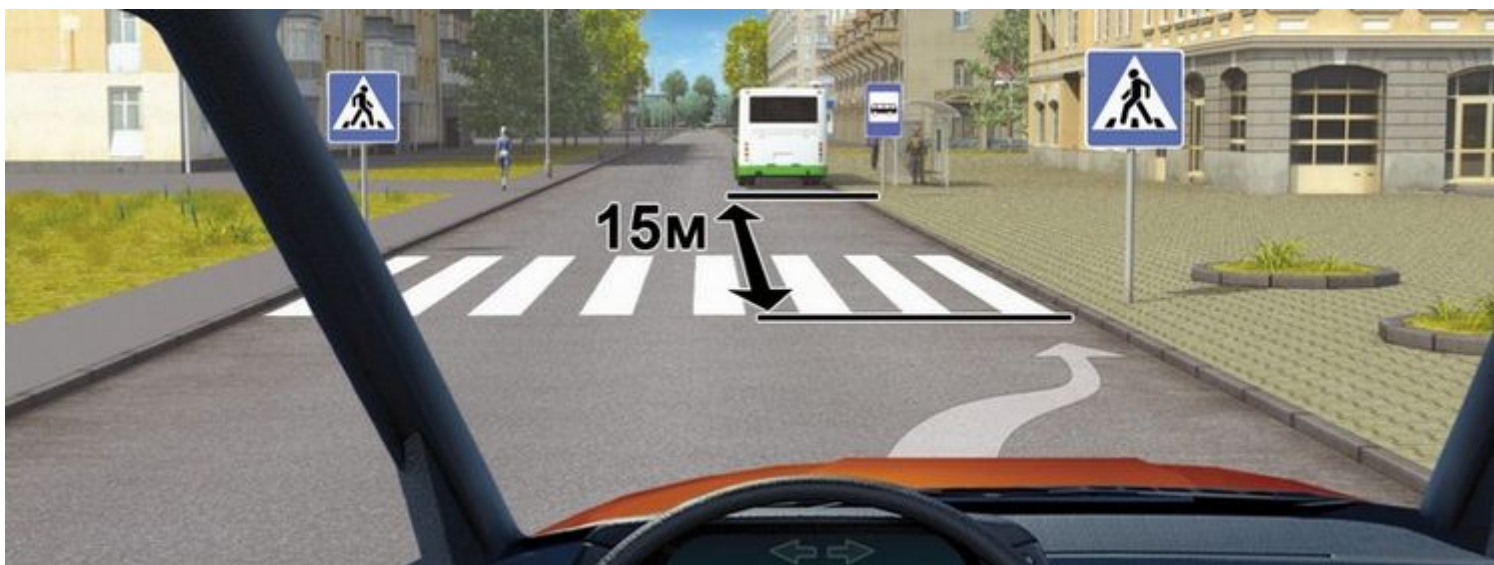
3 70 км/ч

смотреть правильный ответ



**Как Вам следует поступить в данной ситуации?**

- 1 Уступить дорогу встречному автомобилю
- 2 Действовать по взаимной договоренности с водителем встречного автомобиля
- 3 Проехать первым



**Разрешено ли Вам поставить автомобиль на стоянку в этом месте?**

- 1 Разрешено, если при этом не будут созданы помехи для движения маршрутных транспортных средств
- 2 Запрещено
- 3 Разрешено



**Вы намерены повернуть налево. Ваши действия?**

- 1 Уступите дорогу трамваю
- 2 Дождётесь разрешающего сигнала специального светофора и, пропустив трамвай, повернете налево
- 3 Проедете перекрёсток первым



**Кому Вы обязаны уступить дорогу при повороте налево?**

1 Пешеходам и велосипедисту

2 Никому

3 Только пешеходам



**В каком случае Вы должны будете уступить дорогу автомобилю ДПС?**

- 1 В любом
- 2 Если на автомобиле ДПС будут включены проблесковые маячки синего цвета
- 3 Если на автомобиле ДПС одновременно будут включены проблесковые маячки синего цвета и специальный звуковой сигнал



## ВОПРОС БЕЗ ИЗОБРАЖЕНИЯ

**При приближении к остановившемуся транспортному средству с включенной аварийной сигнализацией, которое имеет опознавательные знаки «Перевозка детей», водитель должен:**

- 1 При необходимости остановиться и пропустить детей
- 2 Осуществить все перечисленные действия
- 3 Снизить скорость





## ВОПРОС БЕЗ ИЗОБРАЖЕНИЯ

**В каких случаях водители мопедов нарушают Правила?**

- 1 Только если двигаются по дороге без застегнутого мотошлема
- 2 В обоих перечисленных случаях
- 3 Только если управляют мопедом, не держась за руль хотя бы одной рукой



## ВОПРОС БЕЗ ИЗОБРАЖЕНИЯ


**Эксплуатировать грузовой автомобиль с разрешенной максимальной массой не более 3,5 т можно при отсутствии:**

1 Огнетушителя

2 Аптечки

3 Противооткатных упоров

4 Знака аварийной остановки



**В случае остановки на подъеме(спуске) при наличии обочины можно предотвратить самопроизвольное скатывание автомобиля на проезжую часть, повернув его передние колеса в положение:**

1 Б и В

2 Б и Г

3 А и Г

4 А и В



## ВОПРОС БЕЗ ИЗОБРАЖЕНИЯ

**Установленный факт употребления водителем вызывающих алкогольное опьянение веществ определяется наличием в его организме абсолютного этилового спирта в концентрации, превышающей:**

- 1 0,10 миллиграмма на один литр выдыхаемого воздуха
- 2 0,25 миллиграмма на один литр выдыхаемого воздуха
- 3 0,16 миллиграмма на один литр выдыхаемого воздуха