



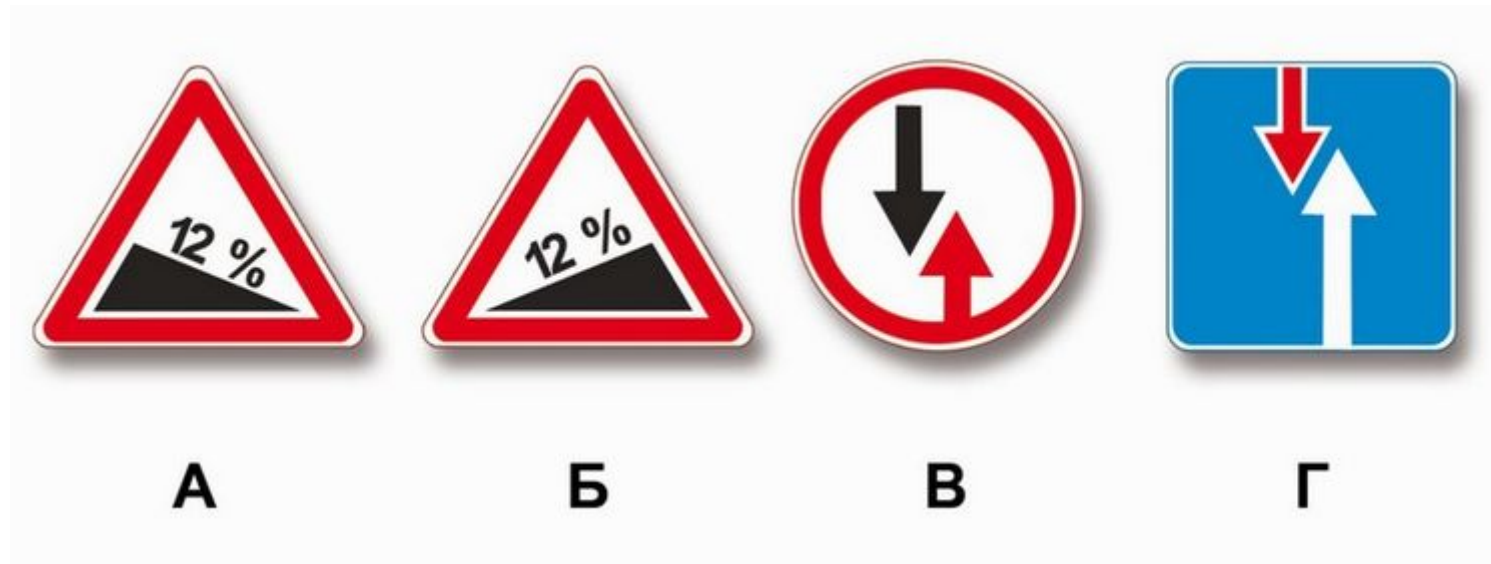
Сколько проезжих частей имеет данная дорога?

1 Одну

2 Две

3 Четыре

смотреть правильный ответ



При наличии какого знака водитель должен уступить дорогу, если встречный разъезд затруднен?

- 1 Только В
- 2 Б и Г
- 3 Б и В
- 4 А и В



Разрешена ли Вам стоянка в указанном месте?

1 Разрешена только в светлое время суток

2 Разрешена

3 Запрещена



Нарушил ли водитель грузового автомобиля правила стоянки?

1 Не нарушил

2 Не нарушил, если разрешенная максимальная масса автомобиля не более 3,5 т

3 Нарушил



О чем предупреждает Вас вертикальная разметка, нанесенная на ограждение дороги?

- 1 О приближении к железнодорожному переезду
- 2 О приближении к опасному перекрестку
- 3 О движении по опасному участку дороги



ВОПРОС БЕЗ ИЗОБРАЖЕНИЯ

Разрешается ли водителю продолжить движение после переключения зеленого сигнала светофора на желтый, если возможно остановиться перед перекрестком, только применив экстренное торможение?

1 Запрещается

2 Разрешается, если водитель намерен проехать перекресток только в прямом направлении

3 Разрешается



Поднятая вверх рука водителя мотоцикла является сигналом, информирующим Вас о его намерении:

- 1 Снизить скорость, чтобы остановиться и уступить дорогу легковому автомобилю
- 2 Продолжить движение прямо
- 3 Повернуть направо



В каких направлениях Вам можно продолжить движение по левой полосе на грузовом автомобиле с разрешенной максимальной массой не более 3,5 т?

1 Прямо, налево и в обратном направлении

2 Только прямо

3 Прямо и направо



Вам необходимо повернуть на примыкающую справа дорогу. Ваши действия?

- 1 Не меняя полосы, снизить скорость, затем перестроиться на полосу торможения
- 2 Не меняя скорости, перестроиться на полосу торможения, затем снизить скорость
- 3 Возможны оба варианта действий



С какой максимальной скоростью Вы имеете право продолжить движение на легковом автомобиле с прицепом?

1 60 км/ч

2 70 км/ч

3 90 км/ч

4 50 км/ч

5 80 км/ч

смотреть правильный ответ



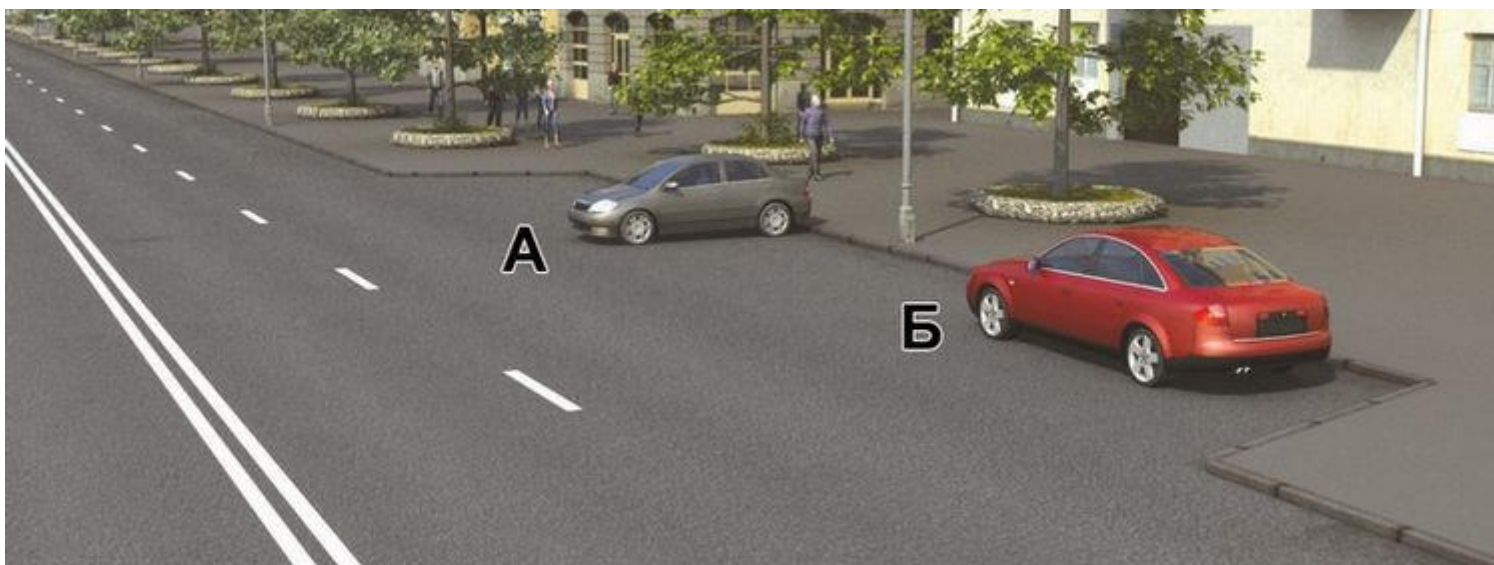
Разрешен ли Вам обгон?

1 Разрешен

2 Разрешен, если обгон будет завершен до перекрестка

3 Запрещен

смотреть правильный ответ



Кто из водителей нарушил правила стоянки?

1 Никто не нарушил

2 Оба

3 Только водитель автомобиля А

4 Только водитель автомобиля Б

[смотреть правильный ответ](#)



Вы намерены развернуться. Ваши действия?


- 1 Выполните разворот, уступив дорогу легковому автомобилю
- 2 Дождетесь, когда регулировщик опустит правую руку
- 3 Проедете перекресток первым



Кому Вы должны уступить дорогу при движении в прямом направлении?

- 1 Обоим транспортным средствам
- 2 Только легковому автомобилю
- 3 Только трамваю

смотреть правильный ответ



Как Вам следует поступить при повороте налево?

- 1 Уступить дорогу обоим транспортным средствам
- 2 Уступить дорогу только грузовому автомобилю с включенным проблесковым маячком.
- 3 Проехать перекрёсток первым



Разрешено ли Вам проехать железнодорожный переезд?

- 1 Разрешено, поскольку дежурный по переезду запрещает движение только встречному автомобилю
- 2 Запрещено
- 3 Разрешено, если отсутствует приближающийся поезд



ВОПРОС БЕЗ ИЗОБРАЖЕНИЯ

В каких случаях разрешено применять звуковые сигналы в населённых пунктах?

- 1 В обоих перечисленных случаях
- 2 Только для предупреждения о намерении произвести обгон
- 3 Только для предотвращения дорожно-транспортного происшествия



ВОПРОС БЕЗ ИЗОБРАЖЕНИЯ

При каком максимальном значении суммарного люфта в рулевом управлении допускается эксплуатация легкового автомобиля?

1 20 градусов

2 25 градусов

3 10 градусов

[смотреть правильный ответ](#)



ВОПРОС БЕЗ ИЗОБРАЖЕНИЯ

Как следует поступить водителю при высадке из автомобиля, стоящего у тротуара или на обочине?

- 1 Обойти автомобиль спереди
- 2 Допустимы оба варианта действий
- 3 Обойти автомобиль сзади



При движении в условиях тумана расстояние до предметов представляется:

- 1 Меньшим, чем в действительности
- 2 Соответствующим действительности
- 3 Большим, чем в действительности