


**На каком рисунке изображён перекрёсток?**

1 На обоих

2 Только на левом

3 Только на правом

смотреть правильный ответ



**Вам можно выполнить разворот:**

- 1 По любой траектории из указанных
- 2 Только по траектории А
- 3 Только по траектории Б



**Разрешено ли Вам поставить автомобиль на стоянку в указанном месте по нечетным числам месяца?**

1 Разрешено

2 Разрешено только после 19 часов

3 Запрещено



**А**



**Б**



**В**

**Какие из указанных знаков обозначают участки, на которых водитель обязан уступать дорогу пешеходам, находящимся на проезжей части?**

1 Все

2 Только Б

3 Б и В



**Что означает разметка А100, нанесенная на проезжую часть дороги?**

- 1 Расстояние до ближайшего перекрёстка
- 2 Номер дороги или маршрута
- 3 Расстояние до ближайшего населённого пункта



**Вам можно продолжить движение:**

- 1 Только направо
- 2 Только прямо
- 3 Прямо или направо



## ВОПРОС БЕЗ ИЗОБРАЖЕНИЯ

**Как следует действовать, выполняя поворот налево на двухполосной дороге?**

- 1 Включить указатели левого поворота, затем приступить к маневру
- 2 Приступить к маневру, одновременно включив указатели левого поворота
- 3 Убедиться в безопасности выполнения маневра, затем включить указатели левого поворота и приступить к маневру



**Вы намерены начать движение от тротуара. Должны ли Вы уступить дорогу мотоциклу, выполняющему разворот?**

1 Не должны, если Вы управляете легковым такси

2 Должны

3 Не должны





**Разрешено ли водителю легкового автомобиля движение задним ходом для посадки пассажира в тоннеле?**

1 Разрешено

2 Разрешено, если при этом не будут созданы помехи другим участникам движения

3 Запрещено



**В данной ситуации Вам разрешается движение:**

- 1 По любой полосе
- 2 По правой или средней полосе
- 3 Только по правой полосе



## ВОПРОС БЕЗ ИЗОБРАЖЕНИЯ

**Разрешено ли выполнить обгон в тоннеле?**

1 Запрещено

2 Разрешено только при наличии искусственного освещения

3 Разрешено




**Можно ли водителю поставить автомобиль на стоянку указанным способом?**

1 Нельзя


2 Можно

3 Можно, если при этом не будут созданы помехи для движения других транспортных средств



**В каком случае Вы обязаны уступить дорогу грузовому автомобилю?**

- 1 При повороте налево
- 2 В обоих перечисленных случаях
- 3 При развороте



**Вы намерены продолжить движение прямо при желтом мигающем сигнале светофора. Ваши действия?**

- 1 Проедете перекресток первым вместе со встречным автомобилем
- 2 Уступите дорогу гужевой повозке
- 3 Остановитесь и продолжите движение только после включения зеленого сигнала светофора



**Вы намерены повернуть налево. Кому Вы обязаны уступить дорогу?**

- 1 Только мотоциклу
- 2 Только автобусу
- 3 Легковому автомобилю и автобусу
- 4 Никому



## ВОПРОС БЕЗ ИЗОБРАЖЕНИЯ

**В каком случае водитель транспортного средства, приближающегося к нерегулируемому пешеходному переходу, обязан уступить дорогу пешеходам?**

- 1 Если пешеходы вступили на проезжую часть (трамвайные пути) для осуществления перехода
- 2 В обоих перечисленных случаях
- 3 Если пешеходы переходят дорогу





## ВОПРОС БЕЗ ИЗОБРАЖЕНИЯ

**Должны ли Вы переключить дальний свет на ближний, если водитель встречного транспортного средства периодическим переключением света фар покажет необходимость этого?**

**1** Должны, только если расстояние до встречного транспортного средства менее 150 м

**2** Не должны

**3** Должны



## ВОПРОС БЕЗ ИЗОБРАЖЕНИЯ

**Какое административное наказание может быть назначено водителю транспортного средства за оставление в нарушение Правил места дорожно-транспортного происшествия, участником которого он является?**

- 1 Лишение права управления транспортными средствами на срок от 1 года до 1,5 лет или административный арест на срок до 15 суток
- 2 Только штраф в размере от 1000 до 1500 рублей
- 3 Штраф в размере от 1000 до 1500 рублей или лишение права управления транспортными средствами на срок от 1 года до 1,5 лет



## ВОПРОС БЕЗ ИЗОБРАЖЕНИЯ

**Для предупреждения скатывания автомобиля с механической трансмиссией при кратковременной остановке на подъеме следует:**

- 1 Привести в действие стояночный тормоз
- 2 Перевести рычаг переключения передач в нейтральное положение
- 3 Включить первую передачу или передачу заднего хода



## ВОПРОС БЕЗ ИЗОБРАЖЕНИЯ

**Зависит ли выбор бокового интервала от скорости движения?**

- 1 При увеличении скорости движения боковой интервал необходимо увеличить
- 2 Выбор бокового интервала от скорости движения не зависит