



ВОПРОС БЕЗ ИЗОБРАЖЕНИЯ

Если в результате дорожно-транспортного происшествия (ДТП) вред причинен только имуществу, то, предварительно зафиксировав положение транспортных средств по отношению друг к другу и объектам дорожной инфраструктуры, следы и предметы, относящиеся к ДТП, повреждения транспортных средств, водитель, причастный к ДТП:

- 1 Обязан освободить проезжую часть.
- 2 Имеет право по своему усмотрению освободить проезжую часть.
- 3 Обязан освободить проезжую часть, если движению других транспортных средств создается препятствие.



А



Б



В

Какие из указанных знаков используются для обозначения границ искусственной неровности?

1 Только А

2 Только Б

3 Б и В



В данной ситуации остановка:

1 Запрещена.

2 Разрешена только транспортным средствам, управляемым инвалидами или перевозящим инвалидов, в том числе детей-инвалидов.

3 Разрешена только маршрутным транспортным средствам и транспортным средствам, используемым в качестве легкового такси.



Управляя каким автомобилем, можно осуществить опережение в данной ситуации?

- 1 Легковым или грузовым с разрешенной максимальной массой не более 3,5 т
- 2 Только легковым
- 3 Легковым или грузовым с разрешенной максимальной массой не более 2,5 т



Что обозначает эта разметка:

- 1 Разрешённую максимальную скорость движения на данном участке дороги
- 2 Рекомендуемую скорость движения на данном участке дороги
- 3 Номер дороги или маршрута



ВОПРОС БЕЗ ИЗОБРАЖЕНИЯ

Чем должны руководствоваться водители, если указания регулировщика противоречат значениям сигналов светофоров и требованиям дорожных знаков?

1 Требованиями дорожных знаков

2 Значениями сигналов светофора

3 Указаниями регулировщика

смотреть правильный ответ



Такой сигнал рукой, подаваемый водителем мотоцикла, который движется по левой полосе, информирует о его намерении:

1 Продолжить движение прямо

2 Повернуть направо


3 Остановиться



При перестроении на правую полосу в данной ситуации Вы:

- 1 Имеете преимущество в движении
- 2 Должны уступить дорогу автомобилю, движущемуся по соседней полосе

смотреть правильный ответ



По какой траектории Вам разрешается выполнить разворот?

- 1 Только по Б
- 2 По указанным траекториям разворот запрещен
- 3 Только по А



Каковы Ваши действия в данной ситуации?

- 1 Продолжите движение только после того, как грузовой автомобиль освободит полосу движения
- 2 Объедете грузовой автомобиль справа по обочине
- 3 Допускаются оба варианта действий




ВОПРОС БЕЗ ИЗОБРАЖЕНИЯ

Запрещено ли выполнить обгон на подъеме?

1 Разрешено

2 Запрещено

3 Запрещено только в конце подъема



Разрешается ли водителям транспортных средств остановка в указанных местах?

1 Разрешается только водителю мотоцикла

2 Разрешается

3 Запрещается




Как Вам следует поступить при повороте направо?

- 1 Остановиться и дождаться другого сигнала регулировщика
- 2 Проехать перекресток, уступив дорогу трамваю
- 3 Проехать перекресток первым



Как Вам следует поступить, двигаясь по перекрестку с круговым движением?

- 1 Уступить дорогу грузовому автомобилю
- 2 Проехать перекресток первым
- 3 Действовать по взаимной договоренности с водителем грузового автомобиля



Кому Вы обязаны уступить дорогу при повороте налево?

- 1 Только легковому автомобилю
- 2 Всем транспортным средствам
- 3 Легковому автомобилю и автобусу



На каком наименьшем расстоянии до ближайшего рельса Вы должны остановиться?

1 10 м

2 5 м

3 15 м

4 20 м

смотреть правильный ответ



ВОПРОС БЕЗ ИЗОБРАЖЕНИЯ

При буксировке на гибкой сцепке между буксирующим и буксируемым транспортными средствами должно быть обеспечено расстояние:

1 Не более 4 м

2 От 4 до 6 м

3 От 6 до 8 м



ВОПРОС БЕЗ ИЗОБРАЖЕНИЯ

Какие административные правонарушения, совершенные водителем, который лишен права управления транспортными средствами, влекут административный арест?

1 Все перечисленные действия

2 Управление транспортным средством; оставление водителем в нарушение Правил места дорожно-транспортного происшествия, участником которого он являлся

3 Управление транспортным средством в состоянии опьянения; невыполнение законного требования уполномоченного должностного лица о прохождении медицинского освидетельствования на состояние опьянения



ВОПРОС БЕЗ ИЗОБРАЖЕНИЯ

Устранение заноса задней оси путем увеличения скорости возможно:

- 1 На любом автомобиле из перечисленных
- 2 Только на переднеприводном автомобиле
- 3 Только на заднеприводном автомобиле



На каком рисунке показано правильное положение рук на рулевом колесе?

1 На левом

2 На правом

3 На среднем

смотреть правильный ответ